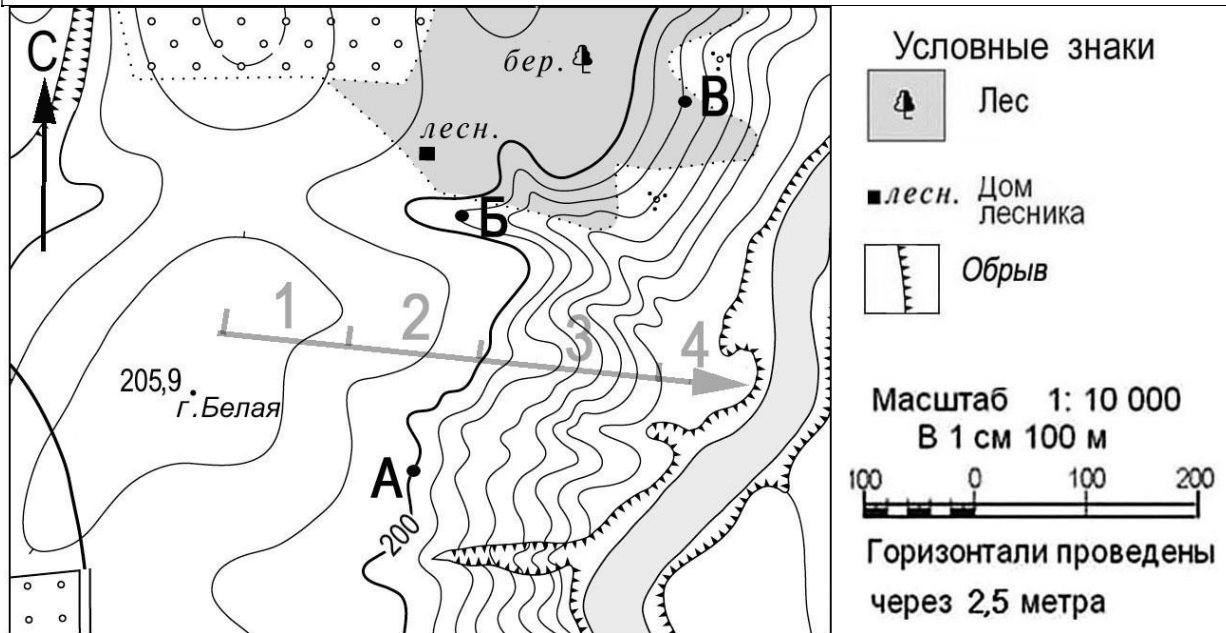


**ДЕМОНСТРАЦИОННАЯ ВЕРСИЯ**  
**по географии для проведения промежуточной аттестации**

**5 класс**

Дополнительный материал: атлас по географии для 5 класса  
Продолжительность работы: 40 минут

**Задания 1,2 и 3 выполняются с использованием ниже приведенного фрагмента карты.**



1. Определите, в каком направлении от дома лесника находится вершина горы Белая. Обведите номер верного ответа.

- 1) юг                    2) юго-восток            3) северо-восток            4) юго-запад

2. Сравните абсолютные высоты точек А, Б и В, и расположите эти точки в порядке уменьшения их абсолютных высот.

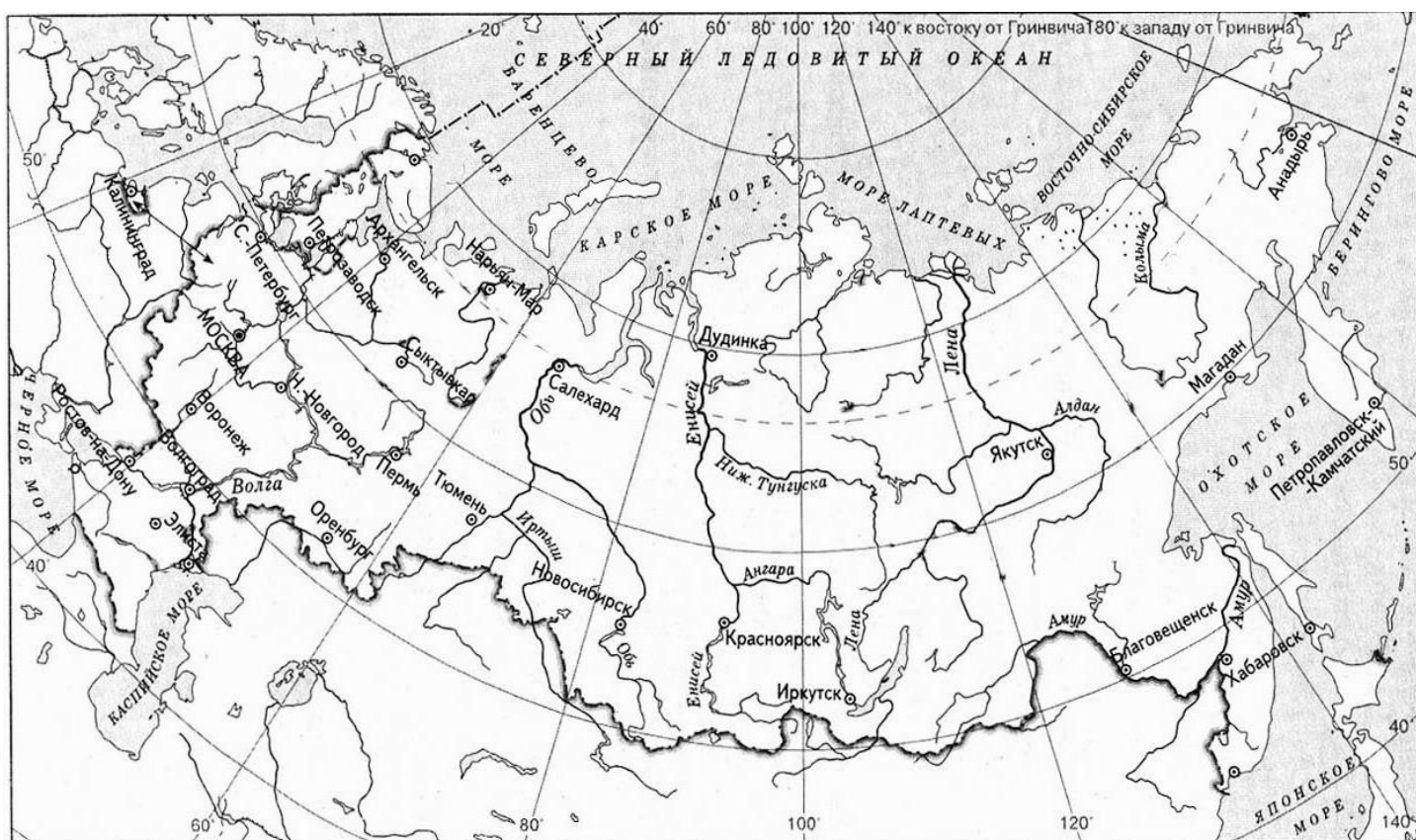
Запишите в таблицу получившуюся последовательность букв

--	--	--

3. Туристы спускаются с горы Белая по маршруту, обозначенному стрелкой. На каком из отрезков пути, обозначенных цифрами, их спуск будет наименее крутым? Обведите номер верного ответа.

- 1) 1                    2) 2                    3) 3                    4) 4

4. Определите, в каком направлении от города Тюмень находится город Пермь.



Обведите номер верного ответа.

- 1) запад      2) юго-запад      3) юго-восток      4) восток

**Задание 5 выполняется с использованием ниже приведенного фрагмента текста.**

### **Знаменитые путешественники эпохи средневековья**

Первыми систематические географические исследования начали португальцы. Еще в первой половине XV века португальский инфант, вошедший в историю как Генрих Мореплыватель, начал отправлять морские экспедиции к югу вдоль западного побережья Африки. В 1498 году португальская экспедиция под руководством Васко да Гамы смогла достигнуть Индии, обогнув Африку и открыв морской торговый путь в Азию.

В свою первую, ставшую знаменитой, экспедицию на кораблях «Санта Мария», «Нинья» и «Пинта» Христофор Колумб отправился в 1492 году. Во время своих плаваний в 1492-1504 гг. Христофор Колумб обнаружил и ошибочно принял за Индию новые обширные земли. Название этой части света позднее дали картографы Мартин Вальдземюллер и Маттиас Рингманн в 1507

году, возможно, в честь Америго Веспуччи, который первым из европейцев понял, что открытые земли являются не Индией, но «Новым Светом».

В 1519 году моряк-португалец Фернан Магеллан задумал и добился осуществления экспедиции, имеющей целью достичь богатых пряностями Молуккских островов (Юго-Восточная Азия). Двигаясь с востока на запад, он обогнул южную оконечность материка Южная Америка и пересёк Тихий океан. Отважный мореплаватель погиб во время экспедиции. Лишь одно судно и 18 человек команды вернулись домой. Эта экспедиция стала одним из важных подтверждений идеи о шарообразности Земли.

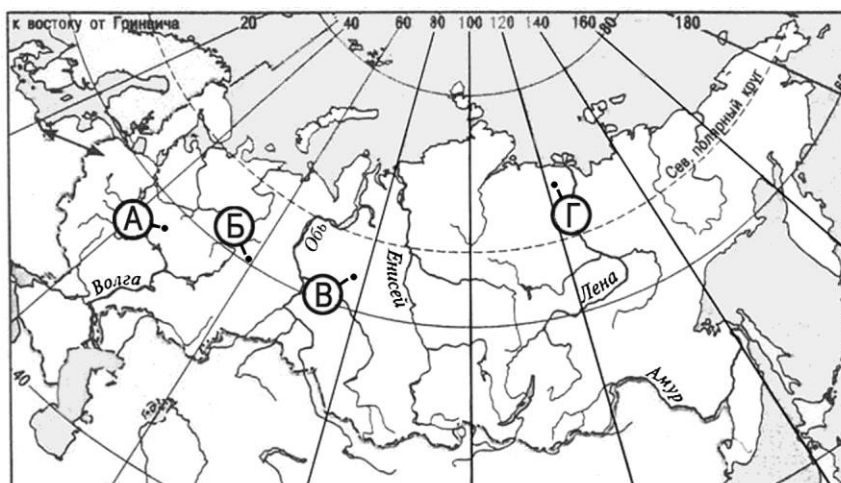
5. Какой из мореплавателей, упомянутых в тексте, совершил первое кругосветное путешествие?

Ответ: \_\_\_\_\_

6. Какая из перечисленных горных пород относится к осадочным? Обведите номер верного ответа.

- 1) пемза                      2) гранит                      3) торф                      4) базальт

7. Используя карты атласа, определите какая из точек, обозначенных на приведённой ниже карте находится в восточнее?



Обведите номер верного ответа.

- 1) А                      2) Б                      3) В                      4) Г

**Задания 8 и 9 выполняются с использованием нижеприведенного фрагмента текста.**

В океане у берегов Индонезии в точке с координатами 2°с.ш. 98° в.д. произошло землетрясение силой 8 баллов, за которым последовала серия

повторных подземных толчков. Волна, образовавшаяся после землетрясения, обрушилась на рыбацкий посёлок на острове Суматра, разрушив сотни жилых домов.

8. Как называется волна, разрушившая посёлок?

Ответ: \_\_\_\_\_

9. В каком океане произошло землетрясение, описанное в тексте?

Ответ: \_\_\_\_\_

10. Верны ли следующие утверждения о движениях Земли?

А) Осевое вращение Земли — причина смены дня и ночи.

Б) Земля вращается по орбите вокруг Луны.

1) верно только А

3) верны оба утверждения

2) верно только Б

4) оба утверждения неверны

11. Расположите города России в той последовательности, в которой их жители встречают Новый год.

1) Хабаровск

3) Омск

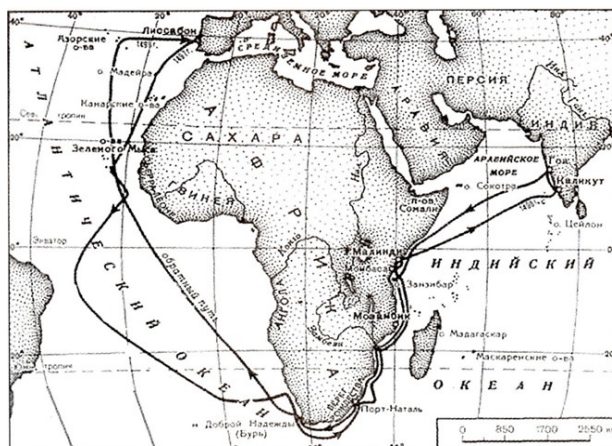
2) Москва

Запишите в таблицу получившуюся последовательность букв.

Ответ:

--	--	--

12.



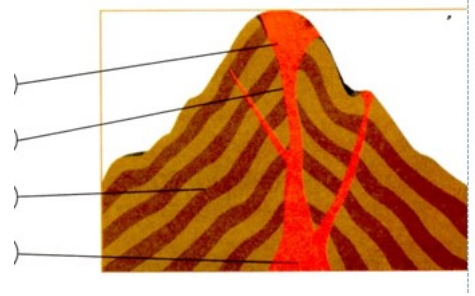
Маршрут какого путешественника представлен на карте

- 2) В. Беринга
- 3) Васко да Гамы
- 4) Марко Поло

1) Х. Колумба

**13.** Обозначьте цифрами на схеме части вулкана:

- 1) жерло
- 2) кратер
- 3) вулканический очаг
- 4) вулканический конус



**14.** Используя физическую карту мира определите, какой город имеет географические координаты: 30° с.ш. 31° в.д

Ответ: \_\_\_\_\_

## Инструкция по выполнению работы

Работа состоит из 14 заданий. На выполнение работы по географии отводится 40 минут.

Ответы к заданиям оцениваются по 1 баллу.

При выполнении работы разрешается использовать географические атласы для 5 классов

### Система оценивания результатов выполнения демонстрационного варианта

Максимальный первичный балл за выполнение всей работы – 14 баллов

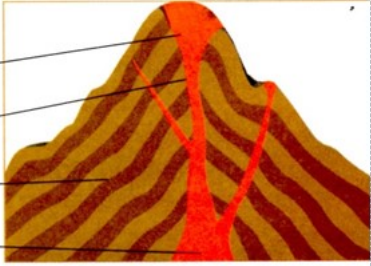
#### *Рекомендуемая шкала перевода первичных баллов в школьные отметки*

<i>Школьная отметка</i>	<b>5</b>	<b>4</b>	<b>3</b>	<b>2</b>
<i>Первичный балл</i>	13-14 (90-100%)	10-12 (70-89%)	7-9 (50-69%)	6 и менее (менее 50%)

### Ответы на задания

Каждое задание  
оценивается в 1 балл.

<b>Номер задания</b>	<b>Правильный ответ</b>
1	4
2	АБВ
3	4
4	1
5	Ф. Магеллан
6	3
7	4
8	цунами
9	В Индийском, Индийский
10	1
11	132
12	3

13	<p data-bbox="678 174 703 210">2</p> <p data-bbox="678 271 703 306">1</p> <p data-bbox="678 322 703 358">4</p> <p data-bbox="678 374 703 409">3</p>  <p>The diagram shows a cross-section of a volcano. At the top is the crater (2). Below it is the vent (1). The main body of the volcano is composed of alternating layers of ash and lava (4). At the base of the volcano is the magma chamber (3).</p>
14	Каир